

数学作业纸

(科目:)

班级:

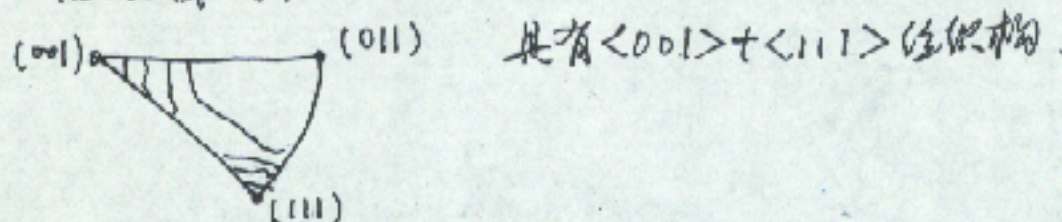
姓名:

编号:

第

页

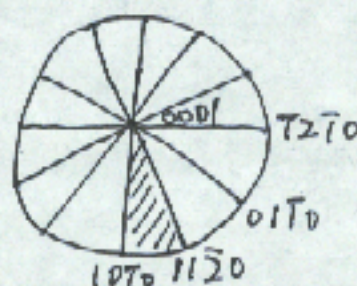
反极图，试样的某一外形方向在晶粒的晶体学坐标中分布的极射投影图
挤压铝棒的轴向反极图。



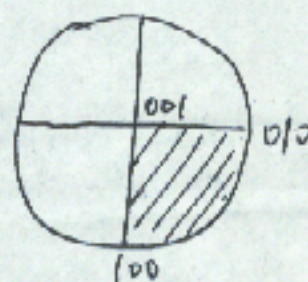
晶体学坐标的取法:



立方晶系



六方晶系



正交晶系